



Modelo Teste Prova Brasil

Caro(a) aluno(a),

O Ministério da Educação quer melhorar o ensino no Brasil.
Você pode ajudar respondendo a esta prova.
Sua participação é muito importante.
Obrigado!

8ª SÉRIE (9º ANO) DO ENSINO FUNDAMENTAL

- ✓ Você está recebendo uma prova de Matemática e de Língua Portuguesa e uma Folha de Respostas.
- ✓ Comece escrevendo seu nome completo:

Nome Completo do(a) Aluno(a)

Turma

- ✓ Leia com atenção antes de responder e marque suas respostas neste caderno.
- ✓ Cada questão tem uma única resposta correta. Faça um X na opção que você escolher como certa, conforme exemplo ao lado.
- ✓ Procure não deixar questão sem resposta.
- ✓ Você terá 25 minutos para responder a cada bloco. Aguarde sempre o aviso do aplicador para começar o bloco seguinte.
- ✓ Quando for autorizado pelo professor, transcreva suas respostas para a Folha de Respostas, utilizando caneta de tinta azul ou preta. Siga o modelo de preenchimento na penúltima página deste caderno.

02 IT_022222
Em "João saiu cedo de carro. Ele levou seu cachorro e seu gato ao veterinário", a palavra "Ele" está substituindo

- (A) cachorro.
(B) carro.
(C) gato.
 (D) João.

**BLOCO 01
MATEMÁTICA**

01 A B C D
02 A B C D
03 A B C D

- VIRE A PÁGINA SOMENTE QUANDO O(A) PROFESSOR(A) AUTORIZAR.
- VOCÊ TERÁ 25 MINUTOS PARA RESPONDER AO BLOCO 1.



BLOCO 1
MATEMÁTICA

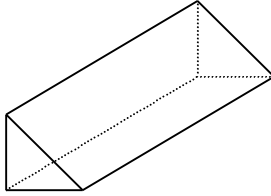


Você terá 25 minutos para responder a este bloco.

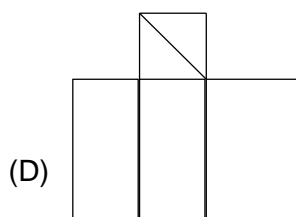
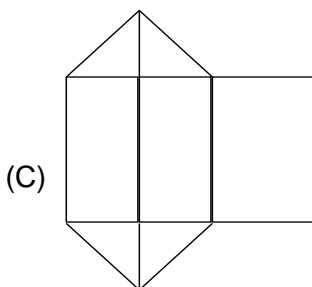
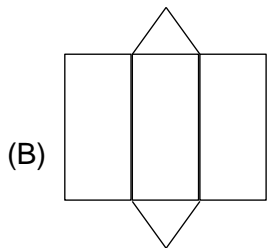
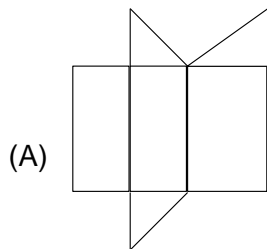
01

IT_024353

O desenho abaixo representa um sólido.



Uma possível planificação desse sólido é



02

IT_021190

Lucas comprou 3 canetas e 2 lápis pagando R\$ 7,20. Danilo comprou 2 canetas e 1 lápis pagando R\$ 4,40. O sistema de equações do 1º grau que melhor representa a situação é

(A)
$$\begin{cases} 3x + 2y = 7,20 \\ 2x + y = 4,40 \end{cases}$$

(B)
$$\begin{cases} 3x - 2y = 7,20 \\ 2x - y = 4,40 \end{cases}$$

(C)
$$\begin{cases} x + y = 3,60 \\ x - y = 2,20 \end{cases}$$

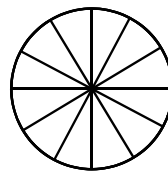
(D)
$$\begin{cases} 3x + y = 7,20 \\ x + y = 4,40 \end{cases}$$

03

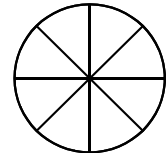
IT_023287

Observe as figuras:

José



Pedrinho



Pedrinho e José fizeram uma aposta para ver quem comia mais pedaços de pizza. Pediram duas pizzas de igual tamanho.

Pedrinho dividiu a sua em oito pedaços iguais e comeu seis; José dividiu a sua em doze pedaços iguais e comeu nove. Então,

- (A) Pedrinho e José comeram a mesma quantidade de pizza.
- (B) José comeu o dobro do que Pedrinho comeu.
- (C) Pedrinho comeu o dobro do que José comeu.
- (D) José comeu a metade do que Pedrinho comeu.

04 IT_022325
 Distribuímos 120 cadernos entre as 20 crianças da 1ª série de uma escola. O número de cadernos que cada criança recebeu corresponde a que porcentagem do total de cadernos?

- (A) 5%
- (B) 10%
- (C) 15%
- (D) 20%

05 IT_023991
 Pedro e João jogaram uma partida de bolinhas de gude. No final, João tinha 20 bolinhas, que correspondiam a 8 bolinhas a mais que Pedro. João e Pedro tinham juntos

- (A) 28 bolinhas.
- (B) 32 bolinhas.
- (C) 40 bolinhas.
- (D) 48 bolinhas.

06 IT_002414
 Observe as figuras abaixo.



retângulo



quadrado

Considerando essas figuras,

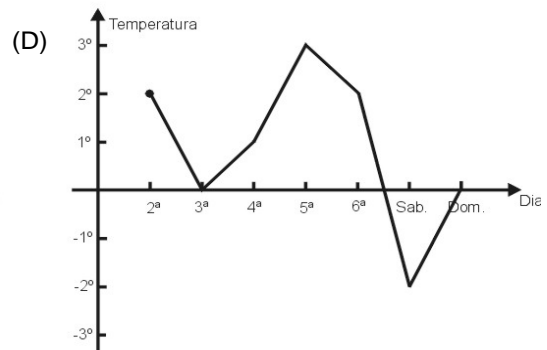
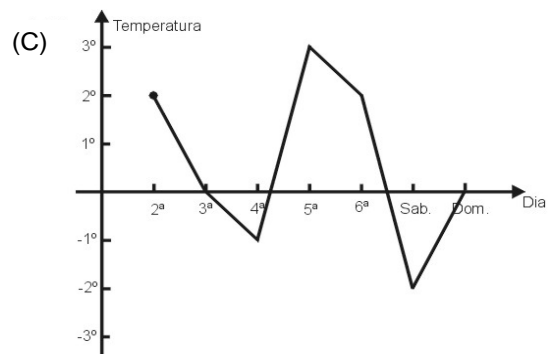
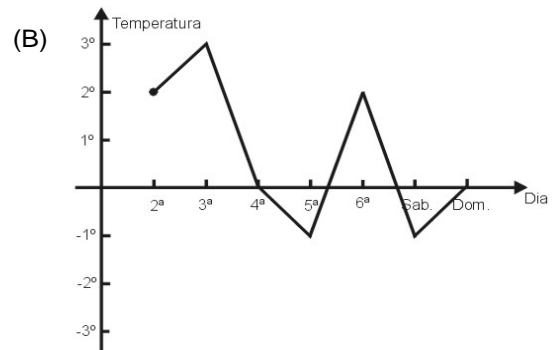
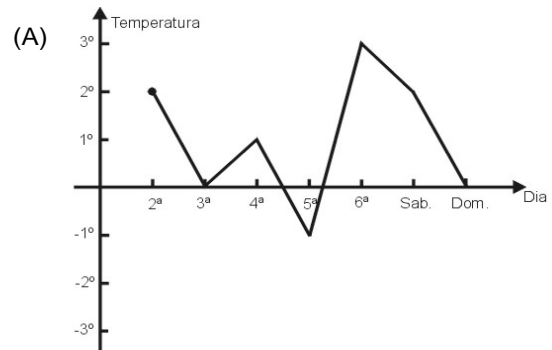
- (A) os ângulos do retângulo e do quadrado são diferentes.
- (B) somente o quadrado é um quadrilátero.
- (C) o retângulo e o quadrado são quadriláteros.
- (D) o retângulo tem todos os lados com a mesma medida.

07 IT_023629

A tabela ao lado mostra as temperaturas mínimas registradas durante uma semana do mês de julho, numa cidade do Rio Grande do Sul.

Dia	Mínima Temperatura
2ª feira	2°
3ª feira	0°
4ª feira	-1°
5ª feira	3°
6ª feira	2°
Sábado	-2°
Domingo	0°

Qual é o gráfico que representa a variação da temperatura mínima nessa cidade, nessa semana?



08

IT_005501

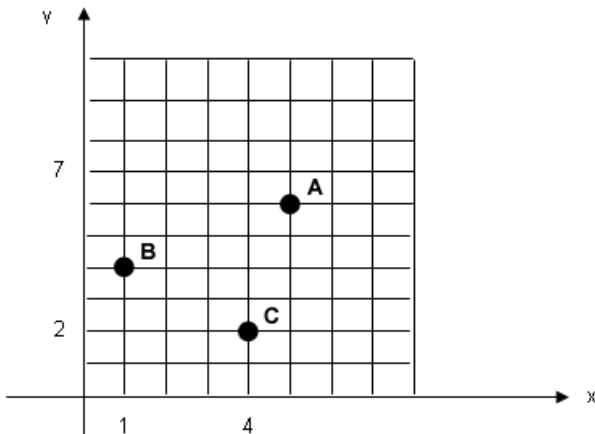
O desenho de um colégio foi feito na seguinte escala: cada 4 cm equivalem a 5 m. A representação ficou com 10 cm de altura. Qual é a altura real, em metros, do colégio?

- (A) 2,0
- (B) 12,5
- (C) 50,0
- (D) 125,0

09

IT_039107

Observe a figura.



Quais as coordenadas de A, B e C, respectivamente, no gráfico?

- (A) (1,4), (5,6) e (4,2)
- (B) (4,1), (6,5) e (2,4)
- (C) (5,6), (1,4) e (4,2)
- (D) (6,5), (4,1) e (2,4)

10

IT_021527

Dada a expressão: $X = \frac{-b + \sqrt{b^2 - 4.a.c}}{2.a}$

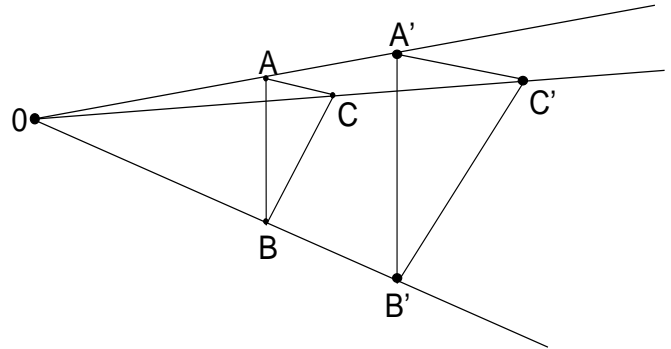
Sendo $a = 1$, $b = -7$ e $c = 10$, o valor numérico de x é

- (A) -5.
- (B) -2.
- (C) 2.
- (D) 5.

11

IT_023396

Ampliando-se o triângulo ABC obtém-se um novo triângulo A'B'C', em que cada lado é o dobro do seu correspondente em ABC.




Em figuras ampliadas ou reduzidas os elementos que conservam a mesma medida são

- (A) as áreas.
- (B) os perímetros.
- (C) os lados.
- (D) os ângulos.

12

IT_005391

Os 2 ângulos formados pelos ponteiros de um relógio às 8 horas medem



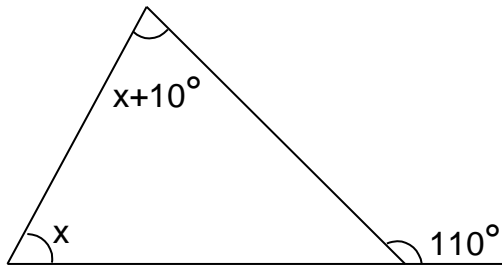
- (A) 60° e 120°.
- (B) 120° e 160°.
- (C) 120° e 240°.
- (D) 140° e 220°.

13

IT_024366

Use este espaço para rascunho.

Observe o triângulo abaixo.



O valor de x é

- (A) 110° .
- (B) 80° .
- (C) 60° .
- (D) 50° .



BLOCO 2
MATEMÁTICA

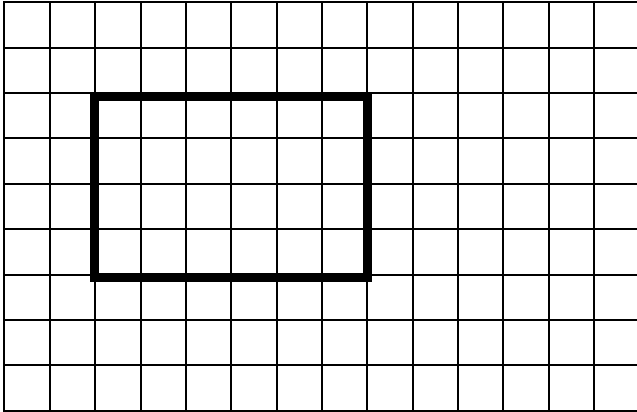


Você terá 25 minutos para responder a este bloco.

01

IT_023926

Observe a figura abaixo.



Considere o lado de cada quadradinho como unidade de medida de comprimento.

Para que o perímetro do retângulo seja reduzido à metade, a medida de cada lado deverá ser

- (A) dividida por 2.
- (B) multiplicada por 2.
- (C) aumentada em 2 unidades.
- (D) dividida por 3.

02

IT_023957

A fração $\frac{3}{100}$ corresponde ao número decimal

- (A) 0,003.
- (B) 0,3.
- (C) 0,03.
- (D) 0,0003.

03

IT_024377

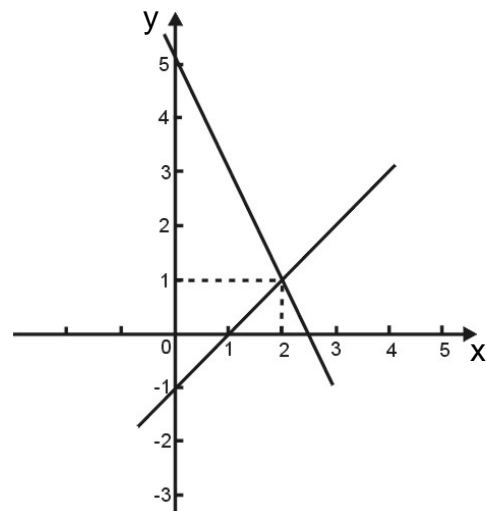
A estrada que liga Recife a Caruaru será recuperada em três etapas. Na primeira etapa, será recuperado $\frac{1}{6}$ da estrada e na segunda etapa $\frac{1}{4}$ da estrada. Uma fração que corresponde à terceira etapa é

- (A) $\frac{1}{5}$
- (B) $\frac{5}{12}$
- (C) $\frac{7}{12}$
- (D) $\frac{12}{7}$

04

IT_024369

Observe o gráfico abaixo.



O gráfico representa o sistema

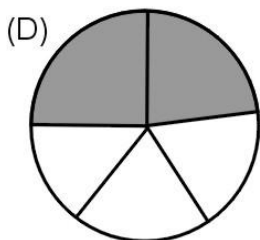
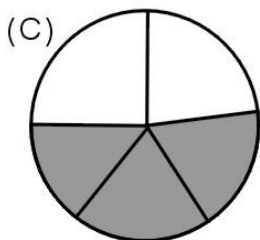
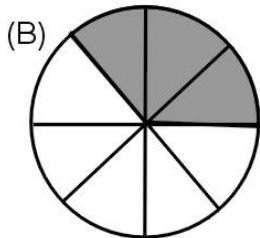
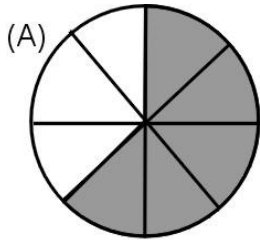
- (A) $\begin{cases} y = x - 1 \\ y = -2x + 7 \end{cases}$
- (B) $\begin{cases} y = -2x + 5 \\ y = x - 1 \end{cases}$
- (C) $\begin{cases} y = -x + 3 \\ y = 2x - 7 \end{cases}$
- (D) $\begin{cases} y = 2x - 5 \\ y = x - 1 \end{cases}$

05

IT_024323

Nas figuras abaixo, as áreas escuras são partes tiradas do inteiro.

A parte escura que equivale aos $\frac{3}{5}$ tirados do inteiro é



06

IT_024320

No supermercado Preço Ótimo, a manteiga é vendida em caixinhas de 200 gramas. Para levar para casa 2 quilogramas de manteiga, Marisa precisaria comprar

- (A) 2 caixinhas.
- (B) 4 caixinhas.
- (C) 5 caixinhas.
- (D) 10 caixinhas.

07

IT_024037

O número decimal que é decomposto em

$$5 + 0,06 + 0,002 \text{ é}$$

- (A) 5,62.
- (B) 5,602.
- (C) 5,206.
- (D) 5,062.

08

IT_023284

Cíntia conduzia um carrinho de brinquedo por controle remoto em linha reta. Ela anotou em uma tabela os metros que o carrinho andava cada vez que ela acionava o controle. Escreveu valores positivos para as idas e negativos para as vindas.

Vez	Metros
Primeira	+ 17
Segunda	- 8
Terceira	+ 13
Quarta	+ 4
Quinta	- 22
Sexta	+ 7

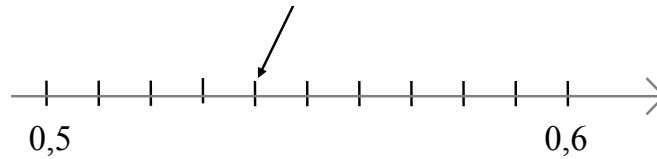
Após Cíntia acionar o controle pela sexta vez, a distância entre ela e o carrinho era de

- (A) -11 m.
- (B) 11 m.
- (C) -27 m.
- (D) 27 m.

09

IT_002476

Observe os números que aparecem na reta abaixo.



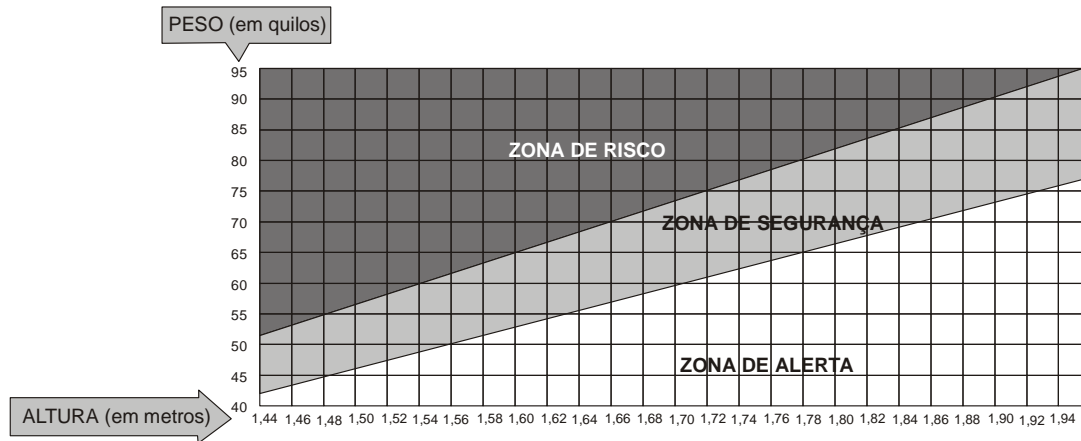
O número indicado pela seta é

- (A) 0,9.
- (B) 0,54.
- (C) 0,8.
- (D) 0,55.

10

IT_024364

Observe o gráfico.



Veja / Sua Saúde. Ano 34 – Nº12/2001

Ao marcar no gráfico o ponto de interseção entre as medidas de altura e peso, saberemos localizar a situação de uma pessoa em uma das três zonas. Para aqueles que têm 1,65 m e querem permanecer na zona de segurança, o peso deve manter-se, aproximadamente, entre

- (A) 48 e 65 quilos.
- (B) 50 e 65 quilos.
- (C) 55 e 68 quilos.
- (D) 60 e 75 quilos.

11

IT_021517

Ao resolver corretamente a expressão $-1 - (-5) \cdot (-3) + (-4)3 : (-4)$, o resultado é

- (A) -13.
- (B) -2.
- (C) 0.
- (D) 30.

12

IT_023585

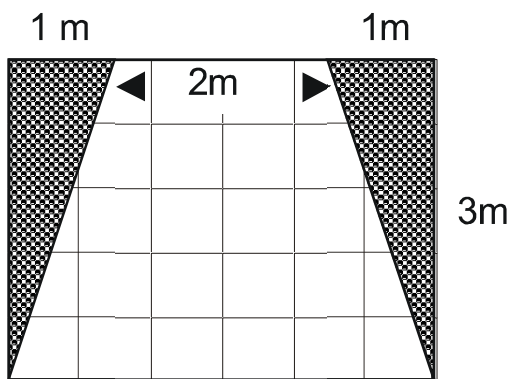
O número irracional $\sqrt{7}$ está compreendido entre os números

- (A) 2 e 3.
- (B) 13 e 15.
- (C) 3 e 4.
- (D) 6 e 8.

13

IT_024367


O piso de entrada de um prédio está sendo reformado. Serão feitas duas jardineiras nas laterais, conforme indicado na figura, e o piso restante será revestido em cerâmica.



Qual é a área do piso que será revestido com cerâmica?

- (A) 3 m^2
- (B) 6 m^2
- (C) 9 m^2
- (D) 12 m^2

Use este espaço para rascunho.



BLOCO 3
LÍNGUA PORTUGUESA



Você terá 25 minutos para responder a este bloco.

TB_000449

O SAPO

Era uma vez um lindo príncipe por quem todas as moças se apaixonavam. Por ele também se apaixonou a bruxa horrenda que o pediu em casamento. O príncipe nem ligou e a bruxa ficou muito brava. "Se não vai casar comigo não vai se casar com ninguém mais!" Olhou fundo nos olhos dele e disse: "Você vai virar um sapo!" Ao ouvir esta palavra o príncipe sentiu estremeção. Teve medo. Acreditou. E ele virou aquilo que a palavra feitiço tinha dito. Sapo. Virou um sapo.

(ALVES, Rubem. *A alegria de ensinar*. Ars Poética, 1994.)

01

IT_030036

No trecho "O príncipe NEM LIGOU e a bruxa ficou muito brava.", a expressão destacada significa que

- (A) não deu atenção ao pedido de casamento.
- (B) não entendeu o pedido de casamento.
- (C) não respondeu à bruxa.
- (D) não acreditou na bruxa.

TB_006380

Vínculos, as equações da matemática da vida

- Quando você forma um vínculo com alguém, forma uma aliança. Não é à toa que o uso de alianças é um dos símbolos mais antigos e universais do casamento. O círculo dá a noção de ligação, de fluxo, de continuidade. Quando se forma um vínculo, a energia flui. E o vínculo só se mantém vivo se essa energia continuar fluindo. Essa é a ideia de mutualidade, de troca.
- 5 Nessa caminhada da vida, ora andamos de mãos dadas, em sintonia, deixando a energia fluir, ora nos distanciamos. Desvios sempre existem. Podemos nos perder em um

15 deles e nos reencontrar logo adiante. A busca é permanente. O que não se pode é ficar constantemente fora de sintonia.

Antigamente, dizia-se que as pessoas procuravam se completar através do outro, buscando sua metade no mundo. A equação era: $1/2 + 1/2 = 1$.

20 "Para eu ser feliz para sempre na vida, tenho que ser a metade do outro." Naquela loteria do casamento, tirar a sorte grande era achar a sua cara-metade.

25 Com o passar do tempo, as pessoas foram desenvolvendo um sentido de individualização maior e a equação mudou. Ficou: $1 + 1 = 1$.

"Eu tenho que ser eu, uma pessoa inteira, com todas as minhas qualidades, meus defeitos, minhas limitações. Vou formar uma unidade com meu companheiro, que também é um ser inteiro." Mas depois que esses dois seres inteiros se encontravam, era comum fundirem-se, ficarem grudados num casamento fechado, tradicional. Anulavam-se mutuamente.

Com a revolução sexual e os movimentos de libertação feminina, o processo de individuação que vinha acontecendo se radicalizou. E a equação mudou de novo: $1 + 1 = 1 + 1$.

40 Era o "cada um na sua". "Eu tenho que resolver os meus problemas, cuidar da minha própria vida. Você deve fazer o mesmo. Na minha independência total e autossuficiência absoluta, caso com você, que também é assim." Em nome dessa independência, no entanto, faltou sintonia, cumplicidade e compromisso afetivo. É a segunda crise do casamento que acompanhamos nas décadas de 70 e 80.

Atualmente, após todas essas experiências, eu sinto as pessoas procurando outro tipo de equação: $1 + 1 = 3$.

55 Para a aritmética ela pode não ter lógica, mas faz sentido do ponto de vista emocional e existencial. Existem você, eu e a nossa relação. O vínculo entre nós é algo diferente de uma simples somatória de nós dois. Nessa

60 proposta de casamento, o que é meu é meu, o que é seu é seu e o que é nosso é nosso.

Talvez aí esteja a grande mágica que hoje buscamos, a de preservar a individualidade sem destruir o vínculo afetivo. Tenho que

65 preservar o meu eu, meu processo de descoberta, realização e crescimento, sem destruir a relação. Por outro lado, tenho que preservar o vínculo sem destruir a individualidade, sem me anular.

70 Acho que assim talvez possamos chegar ao ano 2000 um pouco menos divididos entre a sede de expressão individual e a fome de amor e de partilhar a vida. Um pouco mais inteiros e felizes.

75 Para isso, temos que compartilhar com nossos companheiros de uma verdadeira intimidade. Ser íntimo é ser próximo, é estar estreitamente ligado por laços de afeição e confiança.

(MATARAZZO, Maria Helena. *Amar é preciso*. 22. ed. São Paulo: Editora Gente, 1992. p. 19-21)

02

IT_025481

O texto trata PRINCIPALMENTE

- (A) da exatidão da matemática da vida.
- (B) dos movimentos de libertação feminina.
- (C) da loteria do sucesso no casamento.
- (D) do casamento no passado e no presente.

03

IT_025489

No texto, no casamento, atualmente, defende-se a ideia de que

- (A) a felicidade está na somatória do casal.
- (B) a unidade é igual à soma das partes.
- (C) o ideal é preservar o “eu” e o vínculo afetivo.
- (D) o melhor é cada um cuidar de sua própria vida.

TB_006578

As Amazônias

Esse tapete de florestas com rios azuis que os astronautas viram é a Amazônia. Ela cobre mais da metade do território brasileiro. Quem viaja pela região, não cansa de admirar

5

as belezas da maior floresta tropical do mundo. No início era assim: água e céu. É mata que não tem mais fim. Mata contínua, com árvores muito altas, cortada pelo Amazonas, o maior rio do planeta. São

10

mais de mil rios desaguando no Amazonas. É água que não acaba mais.

SALDANHA, P. *As Amazônias*. Rio de Janeiro: Ediouro, 1995.

04

IT_026915

No texto, o uso da expressão “água que não acaba mais” (l. 11) revela

- (A) admiração pelo tamanho do rio.
- (B) ambição pela riqueza da região.
- (C) medo da violência das águas.
- (D) surpresa pela localização do rio.

05

IT_026888

O texto trata

- (A) da importância econômica do rio Amazonas.
- (B) das características da região Amazônica.
- (C) de um roteiro turístico da região do Amazonas.
- (D) do levantamento da vegetação amazônica.

06

IT_025606

A frase que contém uma opinião é

- (A) “cobre mais da metade do território brasileiro”. (l. 3)
- (B) “não cansa de admirar as belezas da maior floresta”. (l. 4-5)
- (C) “...maior floresta tropical do mundo”. (l. 5-6)
- (D) “é Mata contínua [...] cortada pelo Amazonas”. (l. 7-8)

TB_006594

07

IT_027395

O boto e a Baía da Guanabara

Piraiaguara sentiu um grande orgulho de ser carioca. Se o Atobá Maroto tinha dado nome para as ilhas, ele e todos os outros botos eram muito mais importantes. Eles eram o símbolo daquele lugar privilegiado: a cidade do Rio de Janeiro.

— A “mui leal e heróica cidade de São Sebastião do Rio de Janeiro”.

Piraiaguara fazia questão de lembrar do título, e também de toda a história da cidade e da Baía de Guanabara.

Os outros botos zombavam dele:

— Leal? Uma cidade que quase acabou conosco, que poluiu a baía? Heroica? Uma cidade que expulsou as baleias, destruiu os mangues e quase não nos deixou sardinhas para comer? Olha aí para o fundo e vê quanto cano e lixo essa cidade jogou aqui dentro!

— Acorda do encantamento, Piraiaguara! O Rio de Janeiro e a Baía de Guanabara foram bonitos sim, mas isso foi há muito tempo. Não adianta ficar suspirando pela beleza do Morro do Castelo, ou pelas praias e pela mata que desapareceram. Olha que, se continuar sonhando acordado, você vai acabar sendo atropelado por um navio!

O medo e a tristeza passavam por ele como um arrepio de dor. Talvez nenhum outro boto sentisse tanto a violência da destruição da Guanabara. Mas, certamente, ninguém conseguia enxergar tão bem as belezas daquele lugar.

Num instante, o arrepio passava, e a alegria brotava de novo em seu coração.

HETZEL, B. *Piraiaguara*. São Paulo: Ática, 2000. p. 16 – 20.

Os outros botos zombavam de Piraiaguara, porque ele

- (A) conhecia muito bem a história do Rio de Janeiro.
- (B) enxergava apenas o lado bonito do Rio de Janeiro.
- (C) julgava os botos mais importantes do que os outros animais.
- (D) sentia tristeza pela destruição da Baía da Guanabara.

08

IT_027473

O fato que provoca a discussão entre as personagens é

- (A) a escolha de nomes de botos para as ilhas.
- (B) a história da cidade do Rio de Janeiro.
- (C) o orgulho do boto pela cidade do Rio de Janeiro.
- (D) os perigos do Rio de Janeiro para os botos.

09

IT_027406

Em “se continuar sonhando acordado, você vai acabar sendo atropelado por um navio!” (l. 25-26), o termo sublinhado estabelece, nesse trecho, relação de

- (A) causa.
- (B) concessão.
- (C) condição.
- (D) tempo.

TB_007686

O Encontro
(fragmento)

Em redor, o vasto campo. Mergulhado em névoa branda, o verde era pálido e opaco. Contra o céu, erguiam-se os negros penhascos tão retos que pareciam recortados a faca. Espetado na ponta da pedra mais alta, o sol espiava atrás de uma nuvem.

5 “Onde, meu Deus?! – perguntava a mim mesma – Onde vi esta mesma paisagem, numa tarde assim igual?”

10 Era a primeira vez que eu pisava naquele lugar. Nas minhas andanças pelas redondezas, jamais fora além do vale. Mas nesse dia, sem nenhum cansaço, transpus a colina e cheguei ao campo. Que calma! E que desolação. Tudo aquilo – disso estava bem certa – era completamente inédito pra mim. Mas por que então o quadro se identificava, em todas as minúcias, a uma imagem semelhante lá nas profundezas da minha memória? Voltei-me para o bosque que se estendia à minha direita. Esse bosque eu também já conhecera com sua folhagem cor de brasa dentro de uma névoa dourada. “Já vi tudo isto, já vi...Mas onde? E quando?”

20 Fui andando em direção aos penhascos. Atravessei o campo. E cheguei à boca do abismo cavado entre as pedras. Um vapor denso subia como um hálito daquela garganta de cujo fundo insondável vinha um remotíssimo som de água corrente. Aquele som eu também conhecia. Fechei os olhos. “Mas se nunca estive aqui! Sonhei, foi isso? Percorri em sonho estes lugares e agora os encontro palpáveis, reais? Por uma dessas extraordinárias coincidências teria eu antecipado aquele passeio enquanto dormia?”

35 Sacudi a cabeça, não, a lembrança – tão antiga quanto viva – escapava da inconsciência de um simples sonho.[...]

TELLES, Lygia Fagundes. *Oito contos de amor*. São Paulo: Ática.

10

IT_035361

Na frase “ Já vi tudo isso, já vi...Mas onde?” (l. 23-24), o uso das reticências sugere

- (A) impaciência.
- (B) impossibilidade.
- (C) incerteza.
- (D) irritação.

Seja criativo: fuja das desculpas manjadas

Entrevista com *teens*, pais e psicólogos mostram que os adolescentes dizem sempre a mesma coisa quando voltam tarde de uma festa. Conheça seis desculpas entre as mais usadas. Uma sugestão: evite-as. Os pais não acreditam.

5 — Nós tivemos que ajudar uma senhora que estava passando muito mal. Até o socorro chegar... A gente não podia deixar a pobre velhinha sozinha, não é?

10 — O pai do amigo que ia me trazer bateu o carro. Mas não se preocupem, ninguém se machucou!

15 — Cheguei um minuto depois do ônibus ter partido. Aí tive de ficar horas esperando uma carona...

— Você acredita que o meu relógio parou e eu nem percebi?

20 — Mas vocês disseram que hoje eu podia chegar tarde, não se lembram?

— Eu tentei avisar que ia me atrasar, mas o telefone daqui só dava ocupado!

11

IT_028009

De acordo com o texto, os pais não acreditam em

- (A) adolescentes.
- (B) psicólogos.
- (C) pesquisas.
- (D) desculpas.

TB_007682

Duas Almas

Ó tu, que vens de longe, ó tu, que vens
cansada,
entra, e sob este teto encontrarás carinho:
eu nunca fui amado, e vivo tão sozinho,
5 vives sozinha sempre, e nunca foste amada...

A neve anda a branquear, lividamente, a
estrada,
e a minha alcova tem a tepidez de um ninho.
Entra, ao menos até que as curvas do caminho
10 se banhem no esplendor nascente da alvorada.

E amanhã, quando a luz do sol dourar, radiosa,
essa estrada sem fim, deserta, imensa e nua,
podes partir de novo, ó nômade formosa!

15 Já não serei tão só, nem irás tão sozinha.
Há de ficar comigo uma saudade tua...
Hás de levar contigo uma saudade minha...

WAMOSY, Alceu. *Livro dos sonetos*. L&PM.

12 IT_035304

No verso “e a minha alcova tem a tepidez de um ninho” (v. 6), a expressão sublinhada dá sentido de um lugar

- (A) aconchegante.
- (B) belo.
- (C) brando.
- (D) elegante.

TB_008641

Texto I

A criação segundo os índios Macuxis

No início era assim: água e céu.

Um dia, um Menino caiu na água. O sol quente soltou a pele do Menino. A pele escorregou e formou a terra. Então, a água dividiu o lugar com a terra.

E o Menino recebeu uma nova pele cor de fogo.

No dia seguinte, o Menino subiu numa árvore. Provou de todos os frutos. E jogou todas as sementes ao vento. Muitas sementes caíram no chão. E viraram bichos. Muitas sementes caíram na água. E viraram peixes. Muitas sementes continuaram boiando no vento. E viraram pássaros.

No outro dia, o Menino foi nadar. Mergulhou fundo. E encontrou um peixe ferido. O peixe explodiu. E da explosão surgiu uma Menina.

O Menino deu a mão para a Menina. E foram andando. E o Menino e a Menina foram conhecer os quatro cantos da Terra.

Texto II

A criação segundo os negros Nagôs

Olorum. Só existia Olorum. No início, só existia Olorum.

Tudo o mais surgiu depois.

Olorum é o Senhor de todos os seres.

Certa vez, conversando com Oxalá, Olorum pediu:

– Vá preparar o mundo!

E ele foi. Mas Oxalá vivia sozinho e resolveu casar com Odudua. Deste casamento, nasceram Aganju, a Terra Firme, e Iemanjá, Dona das Águas. De Iemanjá, muito tempo depois, nasceram os Orixás.

Os Orixás são os protetores do mundo.

BORGES, G. et al. *Criação*. Belo Horizonte: Terra, 1999.

13 IT_027467

Comparando-se essas duas versões da criação do mundo, constata-se que

- (A) a diferença entre elas consiste na relação entre o criador e a criação.
- (B) a origem do princípio religioso da criação do mundo é a mesma nas duas versões.
- (C) as divindades, em cada uma delas, têm diferentes graus de importância.
- (D) as diferenças são apenas de nomes em decorrência da diversidade das línguas originárias.

BLOCO 4
LÍNGUA PORTUGUESA



Você terá 25 minutos para responder a este bloco.

TB_006201

Texto I

Cinquenta camundongos, alguns dos quais clones de clones, derrubaram os obstáculos técnicos à clonagem. Eles foram produzidos por dois cientistas da Universidade do Havaí num estudo considerado revolucionário pela revista britânica “Nature”, uma das mais importantes do mundo. [...]

A notícia de que cientistas da Universidade do Havaí desenvolveram uma técnica eficiente de clonagem fez muitos pesquisadores temerem o uso do método para clonar seres humanos.

O GLOBO. Caderno Ciências e Vida. 23 jul. 1998, p. 36.

Texto II

Cientistas dos EUA anunciaram a clonagem de 50 ratos a partir de células de animais adultos, inclusive de alguns já clonados. Seriam os primeiros clones de clones, segundo estudos publicados na edição de hoje da revista “Nature”.

A técnica empregada na pesquisa teria um aproveitamento de embriões — da fertilização ao nascimento — três vezes maior que a técnica utilizada por pesquisadores britânicos para gerar a ovelha Dolly.

Folha De S. Paulo. 1º caderno – Mundo. 03 jul. 1998, p.16.

01

IT_003866

Os dois textos tratam de clonagem. Qual aspecto dessa questão é tratado apenas no texto I ?

- (A) A divulgação da clonagem de 50 ratos.
- (B) A referência à eficácia da nova técnica de clonagem.
- (C) O temor de que seres humanos sejam clonados.
- (D) A informação acerca dos pesquisadores envolvidos no experimento.

TB_006322

Magia das árvores

— Eu já lhe disse que as árvores fazem frutos do nada e isso é a mais pura magia. Pense agora como as árvores são grandes e fortes, velhas e generosas e só pedem em troca um pouquinho de luz, água, ar e terra. É tanto por tão pouco! Quase toda a magia da árvore vem da raiz. Sob a terra, todas as árvores se unem. É como se estivessem de mãos dadas. Você pode aprender muito sobre paciência estudando as raízes. Elas vão penetrando no solo devagarinho, vencendo a resistência mesmo dos solos mais duros. Aos poucos vão crescendo até acharem água. Não erram nunca a direção. Pedi uma vez a um velho pinheiro que me explicasse por que as raízes nunca se enganam quando procuram água e ele me disse que as outras árvores que já acharam água ajudam as que ainda estão procurando.

— E se a árvore estiver plantada sozinha num prado?

— As árvores se comunicam entre si, não importa a distância. Na verdade, nenhuma árvore está sozinha. Ninguém está sozinho. Jamais. Lembre-se disso.

Máqui. *Magia das árvores*. São Paulo: FTD, 1992.

02

IT_027433

No trecho “Ninguém está sozinho. Jamais. Lembre-se disso.” (l. 24-25), as frases curtas produzem o efeito de

- (A) continuidade.
- (B) dúvida.
- (C) ênfase.
- (D) hesitação.

TB_006329

A dor de crescer

Período de passagem, tempo de agitação e turbulências. Um fenômeno psicológico e social, que terá diferentes particularidades de acordo com o ambiente social e cultural. Do latim *ad*, que quer dizer para, e olescer, que significa crescer, mas também adoecer, enfermar. Todas essas definições, por mais verdadeiras que sejam, foram formuladas por adultos.

"Adolescer dói" – dizem as psicanalistas [Margarete, Ana Maria e Yeda] – "porque é um período de grandes transformações. Há um sofrimento emocional com as mudanças biológicas e mentais que ocorrem nessa fase. É a morte da criança para o nascimento do adulto. Portanto, trata-se de uma passagem de perdas e ganhos e isso nem sempre é entendido pelos adultos."

Margarete, Ana Maria e Yeda decidiram criar o "Ponto de Referência" exatamente para isso. Para facilitar a vida tanto dos adolescentes quanto das pessoas que os rodeiam, como pais e professores. "Estamos tentando resgatar o sentido da palavra diálogo" – enfatiza Yeda – "quando os dois falam, os dois ouvem sempre concordando um com o outro, nem sempre acatando. Nosso objetivo maior talvez seja o resgate da interlocução, com direito, inclusive, a interrupções."

Frutos de uma educação autoritária, os

pais de hoje se queixam de estar vivendo a tão alardeada ditadura dos filhos. Contrapondo o autoritarismo, muitos enveredaram pelo caminho da liberdade generalizada e essa tem sido a grande dúvida dos pais que procuram o "Ponto de Referência": proibir ou permitir? "O que propomos aqui" – afirma Margarete – "é a consciência da liberdade. Nem o vale-tudo e nem a proibição total. Tivemos acesso a centros semelhantes ao nosso na Espanha e em Portugal, onde o setor público funciona bem e dá muito apoio a esse tipo de trabalho porque já descobriram a importância de uma adolescência vivida com um mínimo de equilíbrio. Já que o processo de passagem é inevitável, que ele seja feito com menos dor para todos os envolvidos".

MIRTES Helena. In: *Estado de Minas*, 16 jun. 1996.

03

IT_026905

No texto, o argumento que comprova a ideia de ser a adolescência um período de passagem é

- (A) adolescentes sofrem mudanças biológicas e mentais.
- (B) filhos devem ter consciência do significado de liberdade.
- (C) pais reclamam da ditadura de seus filhos.
- (D) psicólogos tentam recuperar o valor do diálogo.

TB_006360

Minha Sombra

De manhã a minha sombra
com meu papagaio e o meu macaco
começam a me arremedar.

5 E quando eu saio
a minha sombra vai comigo
fazendo o que eu faço
seguindo os meus passos.

Depois é meio-dia.
10 E a minha sombra fica do tamaninho
de quando eu era menino.
Depois é tardinha.
E a minha sombra tão comprida
brinca de pernas de pau.

15 Minha sombra, eu só queria
ter o humor que você tem,
ter a sua meninice,
ser igualzinho a você.

E de noite quando, escrevo,
fazer como você faz,
20 como eu fazia em criança:
Minha sombra
você põe a sua mão
por baixo da minha mão,
vai cobrindo o rascunho dos meus poemas
25 sem saber ler e escrever.

LIMA, Jorge de. *Minha Sombra* In: *Obra Completa*. 19 ed.
Rio de Janeiro: José Aguillar Ltda, 1958.

04

IT_026976

De acordo com o texto, a sombra imita o menino

- (A) de manhã.
(B) ao meio-dia.
(C) à tardinha.
(D) à noite.

TB_007367

Assaltos insólitos

Assalto não tem graça nenhuma, mas
alguns, contados depois, até que são
engraçados. É igual a certos incidentes de
viagem, que, quando acontecem, deixam a
5 gente aborrecidíssimo, mas depois, narrados
aos amigos num jantar, passam a ter sabor de
anedota.

Uma vez me contaram de um cidadão que
foi assaltado em sua casa. Até aí, nada
10 demais. Tem gente que é assaltada na rua, no
ônibus, no escritório, até dentro de igrejas e
hospitais, mas muitos o são na própria casa.
O que não diminui o desconforto da situação.

Pois lá estava o dito-cujo em sua casa,
15 mas vestido em roupa de trabalho, pois
resolvera dar uma pintura na garagem e na
cozinha. As crianças haviam saído com a
mulher para fazer compras e o marido se
entregava a essa terapêutica atividade,
20 quando, da garagem, vê adentrar pelo jardim
dois indivíduos suspeitos.

Mal teve tempo de tomar uma atitude e já
ouvia:

— É um assalto, fica quieto senão leva
25 chumbo.

Ele já se preparava para toda sorte de
tragédias quando um dos ladrões pergunta:

— Cadê o patrão?
Num rasgo de criatividade, respondeu:
30 — Saiu, foi com a família ao mercado, mas
já volta.

— Então vamos lá dentro, mostre tudo.

Fingindo-se, então, de empregado de si
mesmo, e ao mesmo tempo para livrar sua
35 cara, começou a dizer:

— Se quiserem levar, podem levar tudo,
estou me lixando, não gosto desse patrão.
Paga mal, é um pão-duro. Por que não levam
aquele rádio ali? Olha, se eu fosse vocês
40 levava aquele som também. Na cozinha tem
uma bateadeira ótima da patroa. Não querem
uns discos? Dinheiro não tem, pois ouvi
dizerem que botam tudo no banco, mas ali
dentro do armário tem uma porção de caixas
45 de bombons, que o patrão é tarado por
bombom.

Os ladrões recolheram tudo o que o falso

empregado indicou e saíram apressados.

Daí a pouco chegavam a mulher e os
50 filhos.

Sentado na sala, o marido ria, ria, tanto nervoso quanto aliviado do próprio assalto que ajudara a fazer contra si mesmo.

SANTANNA Affonso Romano. PORTA DE COLÉGIO E OUTRAS CRÔNICAS São Paulo:Ática 1995. (Coleção Para gostar de ler).

05 IT_032705

O dono da casa livra-se de toda sorte de tragédias, principalmente, porque

- (A) aconselha a levar o som.
- (B) conta os defeitos do patrão.
- (C) mente para os assaltantes.
- (D) mostra os objetos da casa.

06 IT_043110

No trecho “ e o marido se entregara a essa terapêutica atividade.” (l.18-19), a expressão destacada substitui

- (A) fazer compras.
- (B) ir ao mercado.
- (C) narrar anedotas.
- (D) pintar a casa.

07 IT_043111

É exemplo de linguagem formal, no texto

- (A) “dito-cujo”. (l. 14)
- (B) “adentrar”. (l. 20)
- (C) “pão-duro”. (l. 38)
- (D) “botam”. (l. 43)

TB_007451

Prezado Senhor,

Somos alunos do Colégio Tomé de Souza e temos interesse em assuntos relacionados a aspectos históricos de nosso país, principalmente os relacionados ao cotidiano de

- 5 nossa História, como era o dia-a-dia das pessoas, como eram as escolas, a relação entre pais e filhos etc. Vínhamos acompanhando regularmente os suplementos publicados por esse importante jornal. Mas
10 agora não encontramos mais os artigos tão interessantes. Por isso, resolvemos escrevê-lo e solicitar mais matérias a respeito.

08 IT_043070

O tema de interesse dos alunos é

- (A) cotidiano.
- (B) escola.
- (C) História do Brasil.
- (D) relação entre pais e filhos.

TB_007867

Há muitos séculos, o homem vem construindo aparelhos para medir o tempo e não lhe deixar perder a hora. Um dos mais antigos foi inventado pelos chineses e consistia em uma corda cheia de nós a intervalos regulares. Colocava-se fogo ao artefato e a duração de algum evento era medida pelo tempo que a corda levava para queimar entre um nó e outro. Não há registros, mas com certeza diziam-se coisas como: “Muito bonito, não? Você está atrasado há mais de três nós!”

Jornal O Estado de São Paulo, 28/05/1992.

09 IT_035719

A finalidade do texto é

- (A) argumentar.
- (B) descrever.
- (C) informar.
- (D) narrar.

O drama das paixões platônicas na adolescência

- 5 Bruno foi aprovado por três dos sentidos de Camila: visão, olfato e audição. Por isso, ela precisa conquistá-lo de qualquer maneira. Matriculada na 8ª série, a garota está determinada a ganhar o gato do 3º ano do Ensino Médio e, para isso, conta com os conselhos de Tati, uma especialista na arte da azaração. A tarefa não é simples, pois o moço só tem olhos para Lúcia – justo a maior “crânio” da escola. E agora, o que fazer? Camila entra em dieta espartana e segue as leis da conquista elaboradas pela amiga.

REVISTA ESCOLA, março 2004, p. 63

10

IT_038711

Pode-se deduzir do texto que Bruno

- (A) chama a atenção das meninas.
- (B) é mestre na arte de conquistar.
- (C) pode ser conquistado facilmente.
- (D) tem muitos dotes intelectuais.

TB_007617



Angeli. Folha de São Paulo, 25/04/1993.

11

IT_035544

Na tirinha, há traço de humor em

- (A) “Que olhar é esse Dalila?”
- (B) “Olhar de tristeza, mágoa, desilusão...”
- (C) “Olhar de apatia, tédio, solidão...”
- (D) “Sorte! Pensei que fosse conjuntivite!”

TB_009255



REVISTA VEJA, 28/07/1999.

12

IT_043353

A ideia principal do texto é

- (A) o crescimento da área cultivada no Brasil.
- (B) o crescimento populacional.
- (C) o cultivo de grãos.
- (D) o sucesso da agricultura moderna.

TB_009357

Os números da educação

POSIÇÃO NO RANKING DE ESTADOS COM MAIS RECURSOS DO FUNDEF (POR ALUNO/ANO, DE 1ª A 4ª SÉRIES), EM 2003

POSIÇÃO NO RANKING DE DESEMPENHO DOS ESTADOS NO SAEB 2003, EM MATEMÁTICA (4ª SÉRIE) NAS REDES MUNICIPAIS

Posição	Estado	Recursos (R\$)	Posição	Nota média
16º	Minas Gerais	R\$ 655	1º	191,61
11º	Paraná	R\$ 788	7º	176,9
9º	Santa Catarina	R\$ 868	3º	185,06
8º	Rio de Janeiro	R\$ 895	2º	186,45
2º	São Paulo	R\$ 1.238	4º	179,04
1º	Roraima	R\$ 1.438	9º	175,01

O Globo – 07/02/2005

13

IT_043627

Considerando-se os dados relativos às verbas recebidas e ao desempenho em matemática, nos estados, conclui-se que

- (A) há uma relação direta entre quantidade de verbas por aluno e desempenho médio dos alunos.
- (B) Minas Gerais teve menos recursos por aluno e apresentou baixo desempenho médio dos alunos.
- (C) o maior beneficiado com recursos financeiros por aluno foi Roraima.
- (D) São Paulo recebeu maiores verbas por aluno por ser o maior estado.

ATENÇÃO!

- Agora você terá 10 minutos para passar a limpo as respostas de Matemática e Língua Portuguesa para a Folha de Respostas.
- Siga o seguinte modelo de preenchimento:

42

IT_026386

Rosa fez corretamente a seguinte conta de adição:

$$\begin{array}{r} 323 \\ + 129 \\ \hline \end{array}$$

O resultado obtido por ela foi

- (A) 342.
- (B) 352
- (C) 442.
- ~~(D)~~ 452.

MATEMÁTICA	
BLOCO 1	BLOCO 2
40 <input type="checkbox"/> A <input type="checkbox"/> B <input type="checkbox"/> C <input type="checkbox"/> D	43 <input type="checkbox"/> A <input type="checkbox"/> B <input type="checkbox"/> C <input type="checkbox"/> D
41 <input type="checkbox"/> A <input type="checkbox"/> B <input type="checkbox"/> C <input type="checkbox"/> D	44 <input type="checkbox"/> A <input type="checkbox"/> B <input type="checkbox"/> C <input type="checkbox"/> D
42 <input type="checkbox"/> A <input type="checkbox"/> B <input type="checkbox"/> C <input checked="" type="checkbox"/> D	45 <input type="checkbox"/> A <input type="checkbox"/> B <input type="checkbox"/> C <input type="checkbox"/> D

MARQUE ASSIM

MINISTÉRIO DA EDUCAÇÃO
INSTITUTO NACIONAL DE ESTUDOS E PESQUISAS EDUCACIONAIS - INEP
DIRETORIA DE AVALIAÇÃO DA EDUCAÇÃO BÁSICA – DAEB

NOME DO(A) ALUNO(A): _____

FOLHA DE RESPOSTAS

BLOCO 01 MATEMÁTICA	BLOCO 02 MATEMÁTICA	BLOCO 03 LÍNGUA PORTUGUESA	BLOCO 04 LÍNGUA PORTUGUESA
01 <input type="checkbox"/> A <input type="checkbox"/> B <input type="checkbox"/> C <input type="checkbox"/> D	01 <input type="checkbox"/> A <input type="checkbox"/> B <input type="checkbox"/> C <input type="checkbox"/> D	01 <input type="checkbox"/> A <input type="checkbox"/> B <input type="checkbox"/> C <input type="checkbox"/> D	01 <input type="checkbox"/> A <input type="checkbox"/> B <input type="checkbox"/> C <input type="checkbox"/> D
02 <input type="checkbox"/> A <input type="checkbox"/> B <input type="checkbox"/> C <input type="checkbox"/> D	02 <input type="checkbox"/> A <input type="checkbox"/> B <input type="checkbox"/> C <input type="checkbox"/> D	02 <input type="checkbox"/> A <input type="checkbox"/> B <input type="checkbox"/> C <input type="checkbox"/> D	02 <input type="checkbox"/> A <input type="checkbox"/> B <input type="checkbox"/> C <input type="checkbox"/> D
03 <input type="checkbox"/> A <input type="checkbox"/> B <input type="checkbox"/> C <input type="checkbox"/> D	03 <input type="checkbox"/> A <input type="checkbox"/> B <input type="checkbox"/> C <input type="checkbox"/> D	03 <input type="checkbox"/> A <input type="checkbox"/> B <input type="checkbox"/> C <input type="checkbox"/> D	03 <input type="checkbox"/> A <input type="checkbox"/> B <input type="checkbox"/> C <input type="checkbox"/> D
04 <input type="checkbox"/> A <input type="checkbox"/> B <input type="checkbox"/> C <input type="checkbox"/> D	04 <input type="checkbox"/> A <input type="checkbox"/> B <input type="checkbox"/> C <input type="checkbox"/> D	04 <input type="checkbox"/> A <input type="checkbox"/> B <input type="checkbox"/> C <input type="checkbox"/> D	04 <input type="checkbox"/> A <input type="checkbox"/> B <input type="checkbox"/> C <input type="checkbox"/> D
05 <input type="checkbox"/> A <input type="checkbox"/> B <input type="checkbox"/> C <input type="checkbox"/> D	05 <input type="checkbox"/> A <input type="checkbox"/> B <input type="checkbox"/> C <input type="checkbox"/> D	05 <input type="checkbox"/> A <input type="checkbox"/> B <input type="checkbox"/> C <input type="checkbox"/> D	05 <input type="checkbox"/> A <input type="checkbox"/> B <input type="checkbox"/> C <input type="checkbox"/> D
06 <input type="checkbox"/> A <input type="checkbox"/> B <input type="checkbox"/> C <input type="checkbox"/> D	06 <input type="checkbox"/> A <input type="checkbox"/> B <input type="checkbox"/> C <input type="checkbox"/> D	06 <input type="checkbox"/> A <input type="checkbox"/> B <input type="checkbox"/> C <input type="checkbox"/> D	06 <input type="checkbox"/> A <input type="checkbox"/> B <input type="checkbox"/> C <input type="checkbox"/> D
07 <input type="checkbox"/> A <input type="checkbox"/> B <input type="checkbox"/> C <input type="checkbox"/> D	07 <input type="checkbox"/> A <input type="checkbox"/> B <input type="checkbox"/> C <input type="checkbox"/> D	07 <input type="checkbox"/> A <input type="checkbox"/> B <input type="checkbox"/> C <input type="checkbox"/> D	07 <input type="checkbox"/> A <input type="checkbox"/> B <input type="checkbox"/> C <input type="checkbox"/> D
08 <input type="checkbox"/> A <input type="checkbox"/> B <input type="checkbox"/> C <input type="checkbox"/> D	08 <input type="checkbox"/> A <input type="checkbox"/> B <input type="checkbox"/> C <input type="checkbox"/> D	08 <input type="checkbox"/> A <input type="checkbox"/> B <input type="checkbox"/> C <input type="checkbox"/> D	08 <input type="checkbox"/> A <input type="checkbox"/> B <input type="checkbox"/> C <input type="checkbox"/> D
09 <input type="checkbox"/> A <input type="checkbox"/> B <input type="checkbox"/> C <input type="checkbox"/> D	09 <input type="checkbox"/> A <input type="checkbox"/> B <input type="checkbox"/> C <input type="checkbox"/> D	09 <input type="checkbox"/> A <input type="checkbox"/> B <input type="checkbox"/> C <input type="checkbox"/> D	09 <input type="checkbox"/> A <input type="checkbox"/> B <input type="checkbox"/> C <input type="checkbox"/> D
10 <input type="checkbox"/> A <input type="checkbox"/> B <input type="checkbox"/> C <input type="checkbox"/> D	10 <input type="checkbox"/> A <input type="checkbox"/> B <input type="checkbox"/> C <input type="checkbox"/> D	10 <input type="checkbox"/> A <input type="checkbox"/> B <input type="checkbox"/> C <input type="checkbox"/> D	10 <input type="checkbox"/> A <input type="checkbox"/> B <input type="checkbox"/> C <input type="checkbox"/> D
11 <input type="checkbox"/> A <input type="checkbox"/> B <input type="checkbox"/> C <input type="checkbox"/> D	11 <input type="checkbox"/> A <input type="checkbox"/> B <input type="checkbox"/> C <input type="checkbox"/> D	11 <input type="checkbox"/> A <input type="checkbox"/> B <input type="checkbox"/> C <input type="checkbox"/> D	11 <input type="checkbox"/> A <input type="checkbox"/> B <input type="checkbox"/> C <input type="checkbox"/> D
12 <input type="checkbox"/> A <input type="checkbox"/> B <input type="checkbox"/> C <input type="checkbox"/> D	12 <input type="checkbox"/> A <input type="checkbox"/> B <input type="checkbox"/> C <input type="checkbox"/> D	12 <input type="checkbox"/> A <input type="checkbox"/> B <input type="checkbox"/> C <input type="checkbox"/> D	12 <input type="checkbox"/> A <input type="checkbox"/> B <input type="checkbox"/> C <input type="checkbox"/> D
13 <input type="checkbox"/> A <input type="checkbox"/> B <input type="checkbox"/> C <input type="checkbox"/> D	13 <input type="checkbox"/> A <input type="checkbox"/> B <input type="checkbox"/> C <input type="checkbox"/> D	13 <input type="checkbox"/> A <input type="checkbox"/> B <input type="checkbox"/> C <input type="checkbox"/> D	13 <input type="checkbox"/> A <input type="checkbox"/> B <input type="checkbox"/> C <input type="checkbox"/> D

