

# Atividades Integradas

## Etapa Iniciais - EJA

**Tema da Aula:**

### A cidade de Duque de Caxias

#### Objetivos

- Ler, produzir e interpretar textos em diferentes gêneros do discurso, usando as modalidades oral e escrita, adequando-os às diferentes exigências do contexto situacional.
- Compreender o espaço geográfico e a relação com a sociedade, superando os aspectos físicos e abrangendo as problemáticas sociais;
- Ler, escrever e produzir em linguagem matemática, para interagir com o outro, expressando-se, interpretando, considerando a intencionalidade e usufruindo de diversas situações de comunicação;
- Calcular resultado das operações fundamentais.
- Construir o significado do número a partir de seus diferentes usos no contexto social.
- Utilizar a linguagem gráfica para obter informações e representar a espacialidade dos fenômenos geográficos;

1) Observe o cartaz a seguir e responda:

**DRIVE THRU**  
**DA VACINAÇÃO**  
**CONTRA A GRIPE**

**ATENDIMENTO EXCLUSIVO PARA**  
Adultos de 55 a 59 anos,  
motoristas de transporte coletivo,  
taxistas maiores de 55 anos, professores,  
grávidas e puérperas (até 45 dias)

SEGUNDA <b>25/05</b>	QUARTA <b>27/05</b>	SEXTA <b>29/05</b>
-------------------------	------------------------	-----------------------

09H ÀS 12H

**600 DOSES DA VACINA POR DIA**  
**AS SENHAS SERÃO DISTRIBUÍDAS**  
**NOS VEÍCULOS**

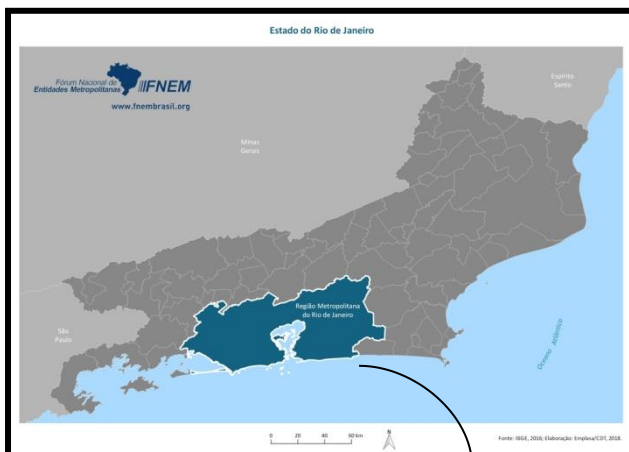
**DETRAN DA REDUC**  
**ROD. WASHINGTON LUÍS - PETROBRAS**

SUS + DC DUQUE DE CAXIAS SECRETARIA MUNICIPAL DE SAÚDE E DEFESA CIVIL DETRAN.RJ GOVERNO DO ESTADO RIO DE JANEIRO

(Imagem disponível em: <https://duquedecaxias.rj.gov.br/noticia/prefeitura-de-duque-de-caxias-promove-drive-thru-de-vacinacao-contr-a-gripe/2101>)

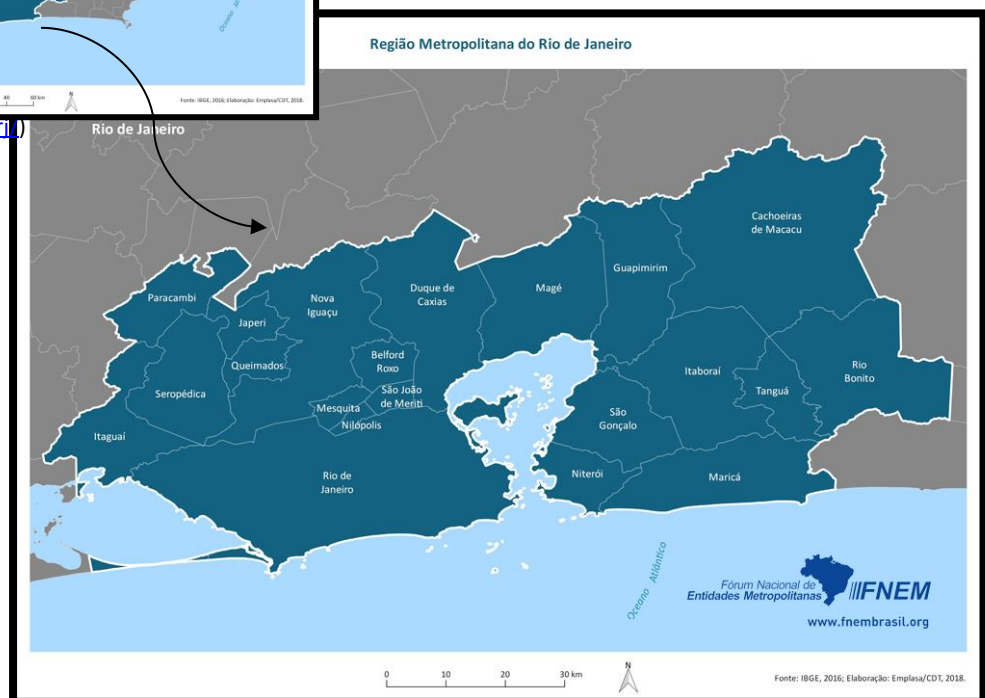
- a) O cartaz está divulgando que tipo de ação?
- 
- b) No cartaz é possível observar uma expressão em Inglês *drive thru*. Você provavelmente já deve ter ouvido falar dela. Qual das definições abaixo corresponde ao significado dessa expressão?
- ( ) Centro de Vacinação para idosos com hora marcada.
- ( ) Serviço que permite que a pessoa receba um produto sem sair do carro.
- ( ) Nome de um tipo de estacionamento em que só entram carros pequenos.
- c) O cartaz traz informações sobre quais pessoas devem participar da campanha. Marque abaixo as opções que se enquadram nos perfis indicados:
- ( ) Joana teve bebê há 20 dias.
- ( ) Pedro tem 70 anos e trabalha com marcenaria.
- ( ) Sandra é professora e tem 45 anos.
- ( ) Sergio é taxista e tem 48 anos.
- ( ) Elaine é motorista de ônibus e está grávida de 5 semanas.

- d) A campanha expressa pelo cartaz aconteceu em três dias. Em cada dia houve a distribuição de 600 doses de vacina. Quantas vacinas foram distribuídas ao final dos 3 dias de campanha?
- e) Se a secretaria de saúde quiser distribuir o triplo da quantidade de doses vacinas numa campanha futura, quantas doses estarão disponíveis a cada dia?
- 2) Esta campanha aconteceu no município de Duque de Caxias, onde fica sua escola. Duque de Caxias é um município do Estado do Rio de Janeiro e está localizado na região Metropolitana.



- ⇒ Observe os mapas. No mapa à esquerda a região metropolitana está destacada no estado do Rio de Janeiro. Abaixo, temos um mapa ampliado que mostra os municípios que fazem parte dessa região:

<http://fnemrasil.org/ri/>



<http://fnemrasil.org/regiao-metropolitana-do-rio-de-janeiro-ri/>

**Região metropolitana** é uma área formada por vários municípios que apresentam uma estrutura ou aglomeração urbana interligada entre si ou em torno de uma cidade principal, geralmente uma metrópole ou capital.

- a) Observe mais uma vez o mapa e liste os municípios que fazem parte da Região Metropolitana do Rio de Janeiro:


- b) Quais desses municípios fazem divisa com o município de Duque de Caxias?

---

---

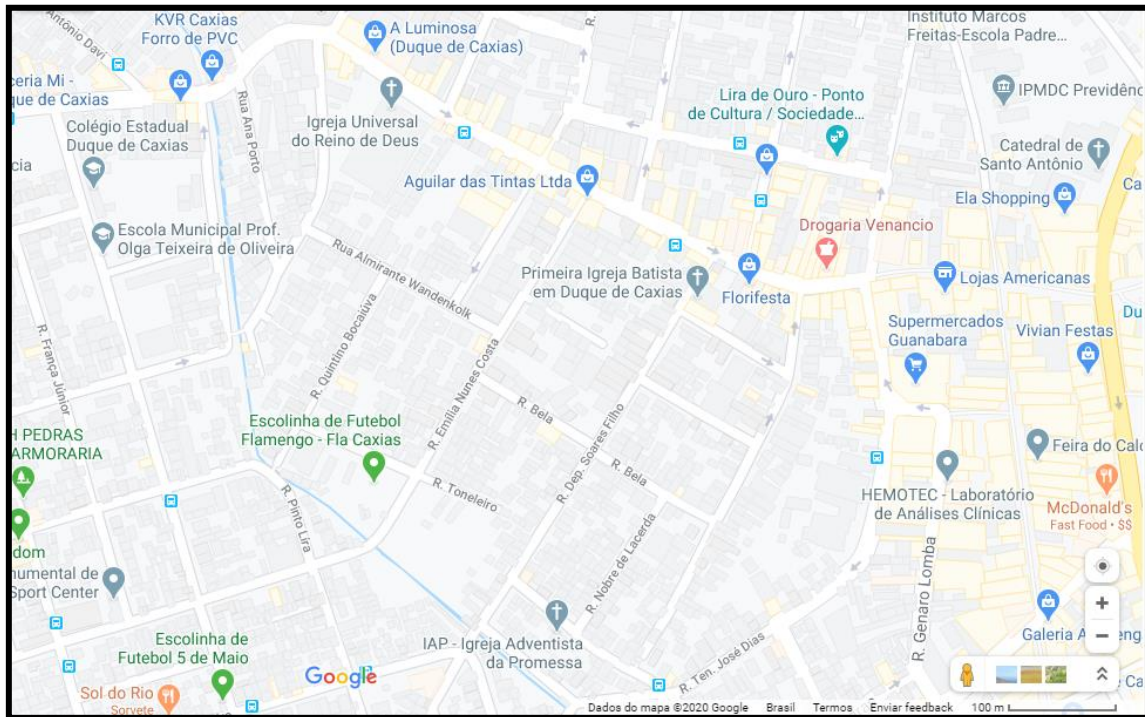
- c) Você deve conhecer alguns dos municípios que fazem parte da região Metropolitana. Escolha três deles e escreva informações que caracterizem esse lugar. Você pode falar sobre suas impressões pessoais, sobre informações que tirou dos meios de comunicação, sobre comércio e moradia, qualidade de vida ou sobre experiências que você viveu nesses locais:

<hr/> <hr/> <hr/> <hr/>
-------------------------

<hr/> <hr/> <hr/> <hr/>
-------------------------

<hr/> <hr/> <hr/> <hr/>
-------------------------

- 3) Para se deslocar dentro das cidades é preciso ter conhecimento sobre o local ou usar instrumentos que auxiliem na orientação espacial. A imagem abaixo é um exemplo de uso do recurso *Google maps*, um serviço de pesquisa e visualização de mapas e imagens de satélite da Terra gratuito na web, fornecido e desenvolvido pela empresa *Google*.



(Imagem de pesquisa no Google maps: <https://www.google.com.br/maps/@-22.7875141,-43.3180215,17z>. Acesso em 15 de maio de 2020).

- a) Você já usou esse recurso? \_\_\_\_\_
- b) Observe a imagem acima. Ela mostra o mapa de um trecho do Centro e bairros vizinhos de Duque de Caxias, no 1º distrito.
- ⇒ Localize e pinte de **amarelo** a Rua Maria Luiza Reis, onde se localizam a E. M. Prof. Olga Teixeira de Oliveira e o Colégio Estadual Duque de Caxias.
- ⇒ Localize e pinte de vermelho a Avenida Nilo Peçanha, onde estão os estabelecimentos comerciais *A Luminosa*, *Aguilar das Tintas* e *Florifesta*.
- ⇒ Qual rua é perpendicular à Rua Nobre de Lacerda? \_\_\_\_\_
- ⇒ Qual é rua é paralela à Rua Emília Nunes Costa? \_\_\_\_\_
- ⇒ A casa de Joana fica numa rua paralela à Av. Nilo Peçanha e perpendicular às ruas Quintino Bocaiúva e Emília Nunes Costa. Em que rua fica a casa de Joana?  
\_\_\_\_\_

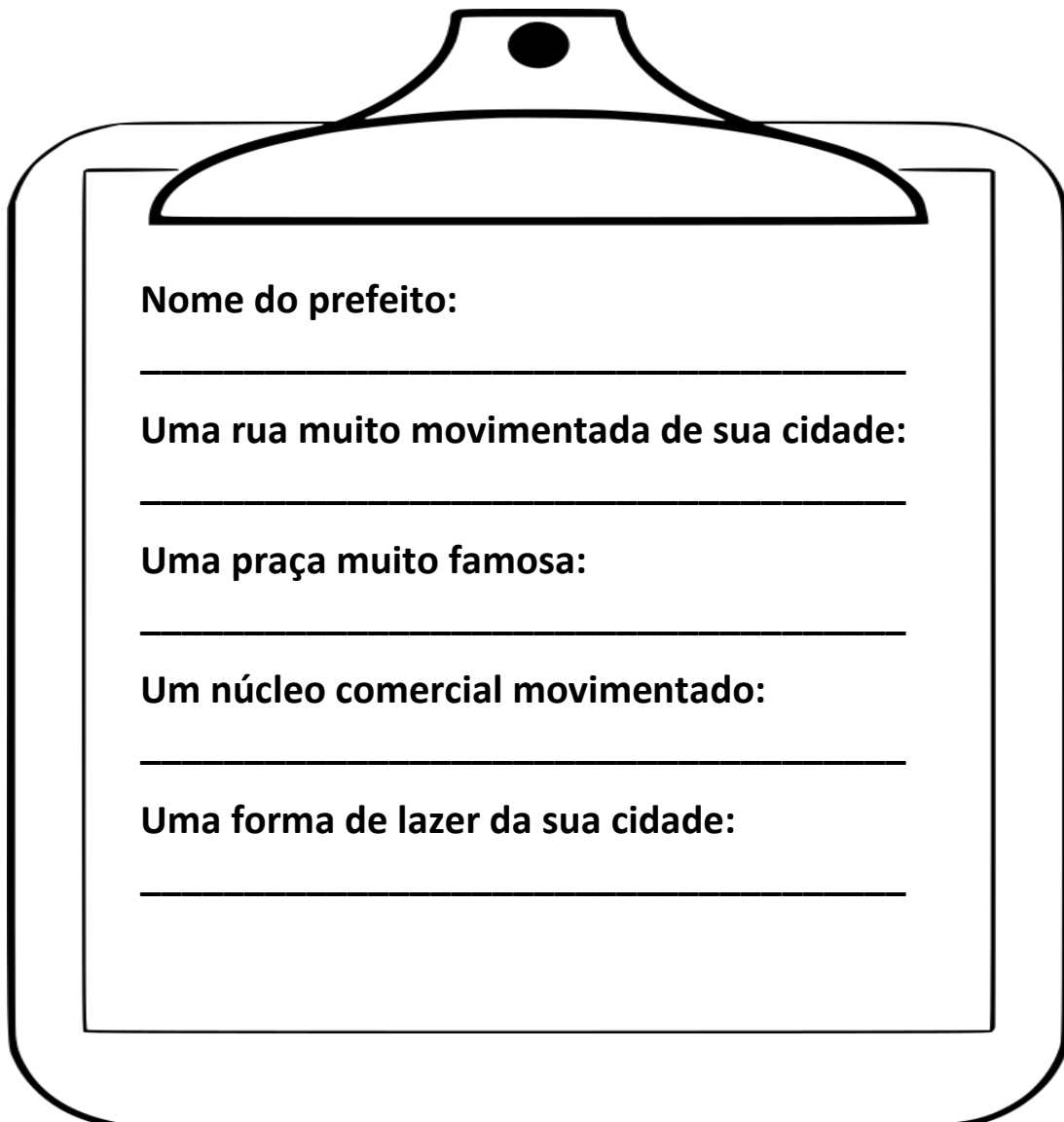
⇒ As cidades tem diferentes espaços: os **espaços públicos** e os **espaços privados**. Os espaços públicos pertencem a toda a população como as ruas, as praças, os parques, as praias, entre outros. Os espaços privados são de propriedade de uma pessoa ou de um grupo de pessoas, como por exemplo, os supermercados, as moradias, as lojas, os escritórios, entre outros.  
Grande parte dos espaços públicos é administrada pela prefeitura do município. Por isso a prefeitura é responsável pelos **serviços públicos** municipais.

4) Que ESPAÇOS PÚBLICOS você costuma frequentar na sua cidade?

---

---

5) Vamos completar o raio X da sua cidade? Preencha a ficha com as informações pedidas:



**Nome do prefeito:**

---

**Uma rua muito movimentada de sua cidade:**

---

**Uma praça muito famosa:**

---

**Um núcleo comercial movimentado:**

---

**Uma forma de lazer da sua cidade:**

---



6) A imagem abaixo mostra uma das construções de destaque no Centro do Município de Duque de Caxias, que foi projetada pelo arquiteto Oscar Niemeyer. Pesquise e responda:

- a) Essa construção é:
- o hospital Moacyr do Carmo.
  - a Biblioteca Municipal Governador Leonel de Moura Brizola
  - o Teatro Raul Cortez.



<https://pt.wikipedia.org/wiki/Ficheiro:TeatroCaxias.jpg>

- b) Em que lugar da cidade essa construção está?
- na Praça do Pacificador, um dos espaços públicos da cidade.
  - na avenida Washington Luiz, uma das principais e mais movimentadas da cidade.
  - próximo do Caxias Shopping.
- c) Observe a estrutura dessa construção. Com que sólido geométrico ela se assemelha?