

Matemática

Tema da Aula:

Comparação

OBJETIVOS

- Estabelecer comparação entre quantidades;
- Aplicar o conceito de comparação em diferentes gradações.

NÚMEROS E QUANTIDADES
 0 - 20

0 ZERO	1 UM 	2 DOIS 	3 TRÊS 
4 QUATRO 	5 CINCO 	6 SEIS 	7 SETE 
8 OITO 	9 NOVE 	10 DEZ 	11 ONZE 
12 DOZE 	13 TREZE 	14 QUATORZE 	15 QUINZE 
16 DEZESSEIS 	17 DEZESSETE 	18 DEZOITO 	19 DEZENOVE 
20 VINTE 			

Atividades

1. OBSERVE A IMAGEM.



Fonte: Pinterest

- AGORA, CONTE CADA UM DOS GUARDA-CHUVAS.
- ESCREVA QUANTOS GUARDA-CHUVAS VOCÊ CONTOU. _____
- TENTE AGRUPAR OS DESENHOS DE DOIS EM DOIS.
- QUANTOS GRUPOS VOCÊ CONSEGUIU FORMAR? _____
- SOBROU ALGUM GUARDA-CHUVA? QUANTOS? _____

2. CONTE AS NUVENS.





Fonte: Freepik


- ESCREVA QUANTAS NUVENS VOCÊ CONTOU. _____
- AGRUPE AS NUVENS DE DUAS EM DUAS.
- QUANTOS GRUPOS DE NUVENS VOCÊ FORMOU? _____
- SOBROU ALGUMA NUVEM? QUANTAS? _____

3. QUAL DOS DESENHOS APARECE EM MAIOR QUANTIDADE?

RESPONDA MARCANDO UM X NO NOME DO DESENHO.

GUARDA-CHUVA	NUVEM
	

4. DESTA VEZ, VOCÊ VAI OBSERVAR AS BOTAS.



Fonte: Freepik

- CONTE CADA UMA DAS BOTAS E ESCREVA QUANTAS TEM. _____
- FORME GRUPOS COM DUAS BOTAS.
- QUANTOS GRUPOS VOCÊ FORMOU? _____
- SOBROU ALGUMA BOTA? QUANTAS? _____

5. OBSERVE OS CASACOS E CONTE CADA UM DELES.



Fonte: Freepik

- ESCREVA QUANTOS CASACOS VOCÊ CONTOU. _____

- AGRUPE OS CASACOS DE DOIS EM DOIS.
- QUANTOS GRUPOS DE CASACOS VOCÊ FORMOU? _____
- SOBROU ALGUM CASACO? QUANTOS? _____

6. MARQUE UM NA MELHOR RESPOSTA. VOCÊ CONTOU...

MAIS BOTAS.

MAIS CASACOS.

A MESMA QUANTIDADE DE BOTAS E CASACOS.

7. PENSE SOBRE A SEGUINTE SITUAÇÃO:

NUMA SEMANA CHUVOSA, A PROFESSORA DO TURNO DA MANHÃ FEZ UMA VOTAÇÃO PARA QUE A TURMA ESCOLHESSSE UM BOM FILME PARA ASSISTIREM JUNTOS. A PROFESSORA DO TURNO DA TARDE FEZ A MESMA ELEIÇÃO COM A TURMA QUE ESTUDA COM ELA.

NO DIA MARCADO, A TURMA DA MANHÃ TINHA 15 ALUNOS PRESENTES E A TURMA DA TARDE, 13.


- QUAL TURMA TINHA MAIS ALUNOS PRESENTES? CIRCULE:

TURMA DA MANHÃ

TURMA DA TARDE

SE NA TURMA DA MANHÃ ESTAVAM PRESENTES 15 ALUNOS E NA TURMA DA TARDE, 13. RESPONDA DO SEU MELHOR JEITO, USANDO DESENHOS, FORMANDO PEQUENOS GRUPOS PARA CONTAR, NÚMEROS, CÁLCULOS...

- QUAL A DIFERENÇA NA QUANTIDADE DE ALUNOS PRESENTES ENTRE A TURMA DA MANHÃ E A TURMA DA TARDE? _____



Para saber mais...

VÍDEO: <https://www.youtube.com/watch?v=wTLPXEtn3kY>